



## PREFEITURA MUNICIPAL DE MARÍLIA

ESTADO DE SÃO PAULO

CONCURSO PÚBLICO

### 002. PROVA OBJETIVA

#### SUPERVISOR DE SAÚDE

- ◆ Você recebeu sua folha de respostas e este caderno contendo 50 questões objetivas.
- ◆ Confira seus dados impressos na capa deste caderno e na folha de respostas.
- ◆ Quando for permitido abrir o caderno, verifique se está completo ou se apresenta imperfeições. Caso haja algum problema, informe ao fiscal da sala.
- ◆ Leia cuidadosamente todas as questões e escolha a resposta que você considera correta.
- ◆ Marque, na folha de respostas, com caneta de tinta preta, a letra correspondente à alternativa que você escolheu.
- ◆ A duração da prova é de 3 horas, já incluído o tempo para o preenchimento da folha de respostas.
- ◆ Só será permitida a saída definitiva da sala e do prédio após transcorridos 75% do tempo de duração da prova.
- ◆ Deverão permanecer em cada uma das salas de prova os 3 últimos candidatos, até que o último deles entregue sua prova, assinando termo respectivo.
- ◆ Ao sair, você entregará ao fiscal a folha de respostas e este caderno, podendo levar apenas o rascunho de gabarito, localizado em sua carteira, para futura conferência.
- ◆ Até que você saia do prédio, todas as proibições e orientações continuam válidas.

**AGUARDE A ORDEM DO FISCAL PARA ABRIR ESTE CADERNO DE QUESTÕES.**

Nome do candidato

RG

Inscrição

Prédio

Sala

Carteira



## CONHECIMENTOS GERAIS

### LÍNGUA PORTUGUESA

Leia o texto para responder às questões de números **01** a **08**.

#### *A água do mundo*

Vou correndo, como se isso me fizesse escapar dos pingos da chuva que se inicia. Com o canto do olho observo o senhor que com a mangueira termina de limpar a calçada, mesmo sabendo que a chuva há de modificar todo o cenário nos próximos instantes. Ou vai trazer de volta toda a sujeira que ele está tirando ou vai lavar outra vez o que ele acabou de lavar.

Quando passa um furacão levando tudo, os bons ou os maus, estão todos ameaçados. Quando chove muito e tudo começa a inundar, anjos e demônios poderão estar, em breve, igualmente submersos. Quando a água falta, senhores e escravos morrem da mesma sede. Há forças mais poderosas que a maldade humana.

Os destinos turísticos são, em sua maioria, lugares interessantes por causa da água. Praias, lagos, rios, cachoeiras: somos naturalmente atraídos pela água. A simples vista para o mar ou rio já torna um ambiente mais interessante. Vivemos em meio a tanta água e ainda somos tão fascinados por ela!

Volto ao início e ao senhor que tentava varrer uma folha de árvore, pequenina, da porta de seu prédio, segundos antes de a chuva começar. Quantos litros de água pura ele desperdiçava naquela tarefa imbecil? Não seria mais fácil varrer a folhinha ou pegá-la com a mão? Aquela água correria para o bueiro e se juntaria ao esgoto cheio de substâncias químicas e de lá iria parar sabe-se lá onde, mas, poluída, demoraria um tempo enorme para voltar para o reservatório d'água da cidade. Este tempo é que pode ser o suficiente para uma cidade entrar em caos por não ter o que beber. A água não vai "acabar" nunca, mas talvez, um dia, não possamos usufruir dela onde e como gostaríamos. Talvez as grandes desgraças naturais não nos metam tanto medo porque o que nos vai derrotar mesmo são as folhinhas nas calçadas. Aguadas de estupidez.

(JAIME, Leo. A água do mundo. Disponível em: <http://blonicas.zip.net/>. Acesso em: 01.out.2017. Adaptado)

**01.** De acordo com o texto, é correto afirmar que

- (A) a maioria das desgraças naturais não são causadas pela água.
- (B) a maior parte dos passeios interessantes estão próximos de rios e mares.
- (C) o desperdício de água é questão solucionada na sociedade civil.
- (D) a forma mais adequada para limpar a calçada é lavá-la com mangueira.
- (E) a água poluída pode ser tratada rapidamente e retornada aos reservatórios.

**02.** A frase "Há forças mais poderosas que a maldade humana", utilizada pelo autor no final do segundo parágrafo, significa que

- (A) a água que vai para o bueiro, se junta ao esgoto e demora anos para se tornar água potável novamente.
- (B) as folhas na calçada causam desperdício de água potável que poderia ser utilizada para sobrevivência da população.
- (C) a falta de água, o furacão e a inundação causada por chuvas superam as más intenções dos homens.
- (D) a água potável não irá acabar nunca, portanto podemos usufruir dela sem nos preocupar com sua extinção.
- (E) o homem precisa atentar para o uso racional da água a fim de continuar usufruindo de passeios próximos aos rios e mares.

**03.** Assinale a alternativa cuja forma verbal em destaque exprime atitude de incerteza, dúvida, imprecisão do falante perante o fato.

- (A) ... como se isso me **fizesse** escapar dos pingos da chuva que se inicia.
- (B) Quantos litros de água pura ele **desperdiçava** naquela tarefa imbecil?
- (C) A água não vai "**acabar**" nunca...
- (D) Quando chove muito e tudo **começa** a inundar...
- (E) Os destinos turísticos **são**, em sua maioria, lugares interessantes por causa da água.

**04.** Assinale a alternativa cujo termo em destaque expressa circunstância de intensidade.

- (A) A simples vista para o mar ou rio **já** torna um ambiente mais interessante.
- (B) Quando chove **muito** e tudo começa a inundar...
- (C) **Quando** a água falta, senhores e escravos morrem da mesma sede.
- (D) **Talvez** as grandes desgraças naturais não nos metam tanto medo...
- (E) A água **não** vai "acabar" nunca...

05. A expressão em destaque na frase "... mesmo sabendo que a chuva há de modificar todo o cenário nos próximos instantes. ", estabelece sentido de

- (A) causa.
- (B) finalidade.
- (C) condição.
- (D) concessão.
- (E) consequência.

06. No trecho do quarto parágrafo, "Volto ao início e ao senhor **que** tentava varrer uma folha de árvore.", o termo em destaque pode ser substituído, considerando a mesma relação de sentido estabelecida no texto, por

- (A) do qual.
- (B) na qual.
- (C) o qual.
- (D) a qual.
- (E) no qual.

07. O termo destacado na frase – A água não vai "acabar" nunca, mas talvez, um dia, não possamos **usufruir** dela onde e como gostaríamos. – pode ser corretamente substituído, sem alteração do sentido do texto, por

- (A) aproveitar.
- (B) destituir.
- (C) abstrair.
- (D) precisar.
- (E) deduzir.

08. No trecho do 4º parágrafo – Aquela água correria **para** o bueiro e se juntaria ao esgoto cheio de substâncias químicas... –, a palavra destacada estabelece sentido de

- (A) finalidade.
- (B) origem.
- (C) oposição.
- (D) tempo.
- (E) direção.

09. A alternativa em que a concordância das palavras se apresenta de acordo com a norma-padrão da língua portuguesa está em:

- (A) Chegou, nesse instante, os candidatos à nova vaga de jornalista.
- (B) Atualmente, é comum ver pessoas mal-educada jogando lixo nas ruas.
- (C) Ela mesmo pediu ao marido que falasse mais baixo.
- (D) As amigas dela, ontem pela manhã, vieram para seu aniversário.
- (E) O celular precisa estar guardado enquanto os motoristas dirige.

Leia o texto para responder à questão de número 10.

### palestra sobre os novos tempos



(DAHMER, André. Disponível em: <http://www1.folha.uol.com.br/ilustrada/cartum/cartunsdiarios/#12/10/2017>. Acesso em 06.11.2017)

10. Considerando o texto, é correto afirmar que o personagem se mostra

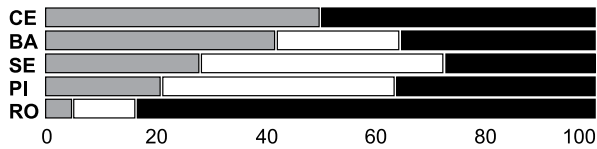
- (A) confiante, considerando que há vários países que poderiam abrigar as pessoas que querem sair do Brasil.
- (B) feliz, pois acredita que é preciso deixar o país, diante de uma filosofia política e social que defende a manutenção das instituições sociais tradicionais.
- (C) aborrecido, pois seu desejo é permanecer no país, considerando que o Brasil é um país progressista e que pode receber pessoas de outros países.
- (D) triste, pois não tem um plano para sair do país e não tem acesso à lista de países desenvolvidos que recebem pessoas de países conservadores.
- (E) desconfiado, pois acredita que a solução para se safar do conservadorismo brasileiro é a mudança para um novo planeta.

11. O gráfico abaixo ilustra a situação da população carcerária, em percentual do total, para cinco estados brasileiros, no ano de 2014.

**POPULAÇÃO CARCERÁRIA PRESA SEM CONDENAÇÃO NO BRASIL EM JUNHO DE 2014**

Em % do total

- sem condenação e preso há mais de 90 dias
- sem condenação e preso há menos de 90 dias
- preso com condenação



(www.nexojornal.com.br. Adaptado)

Destes cinco estados, o que apresenta maior percentual de população carcerária presa sem condenação é o estado

- (A) do Ceará (CE).
- (B) da Bahia (BA).
- (C) de Sergipe (SE).
- (D) de Piauí (PI).
- (E) de Rondônia (RO).

Leia o texto a seguir para responder às questões de números 12 e 13.

No ano de 2015, uma imobiliária sofreu uma redução de 20% no número de negócios realizados, quando comparado ao ano de 2014. Em 2016, essa imobiliária sofreu nova queda no número de negócios realizados, agora de 30% em relação ao ano de 2015.

Considere que em 2014 foram realizados 1 800 negócios nessa imobiliária, gerando para ela, em média, R\$ 270,00 de arrecadação por negócio realizado.

12. Comparado ao ano de 2014, o número de negócios realizados no ano de 2016 corresponde a
- (A) 56%.
  - (B) 50%.
  - (C) 45%.
  - (D) 40%.
  - (E) 32%.
13. A projeção do número de negócios realizados para o ano de 2017 corresponde a  $\frac{3}{4}$  dos negócios realizados em 2014. Apesar da redução, é esperado que a quantia total de arrecadação para o proprietário da imobiliária seja igual à obtida em 2014. Isso porque, espera-se que o lucro por negócio realizado em 2017 seja igual a
- (A) R\$ 300,00.
  - (B) R\$ 360,00.
  - (C) R\$ 420,00.
  - (D) R\$ 450,00.
  - (E) R\$ 540,00.

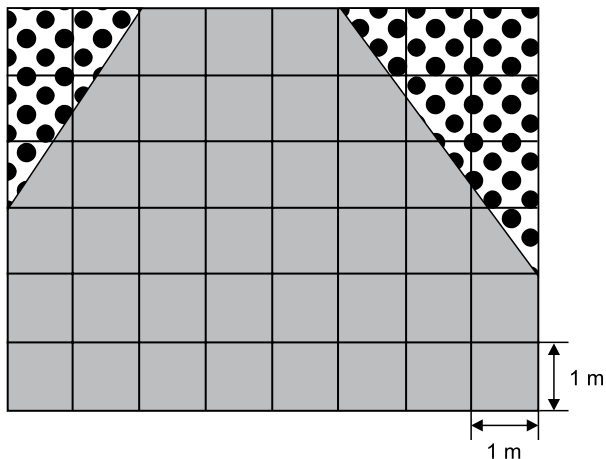
14. Quando uma empresa de transportes recebe a solicitação de um orçamento para realizar determinada viagem, ela cobra um valor por quilômetro rodado, além de um valor fixo de R\$ 220,00, referente à diária do motorista. Se para realizar uma viagem de 450 Km, feita em um único dia, a empresa cobrou R\$ 1.210,00, então o preço que essa empresa cobra por quilômetro rodado é igual a
- (A) R\$ 2,70.  
 (B) R\$ 2,55.  
 (C) R\$ 2,20.  
 (D) R\$ 1,95.  
 (E) R\$ 1,80.
15. Em uma rodovia há uma placa informativa no Km 77 indicando que faltam 12 minutos para chegar em um posto localizado no Km 56. Se um carro chegar ao referido posto 20 minutos depois de ter passado pela placa informativa, significa que, em média, a distância percorrida por minuto foi inferior àquela necessária para atender o tempo indicado pela placa em
- (A) 1750 m.  
 (B) 1050 m.  
 (C) 900 m.  
 (D) 700 m.  
 (E) 625 m.
16. Um aplicativo mobile recém lançado no mercado atingiu a marca de 100 avaliações. Essas avaliações são feitas de uma a cinco estrelas, sendo que quanto maior o número de estrelas, maior a satisfação do usuário. As pontuações foram contabilizadas na tabela a seguir:

PONTUAÇÃO	NÚMERO DE AVALIAÇÕES
★★★★★	74
★★★★	15
★★★	2
★★	5
★	4

Baseado nessas 100 avaliações, a pontuação média desse aplicativo é

- (A) ★★★★★  
 (B) ★★★★★★  
 (C) ★★★★★  
 (D) ★★★★★★  
 (E) ★★★

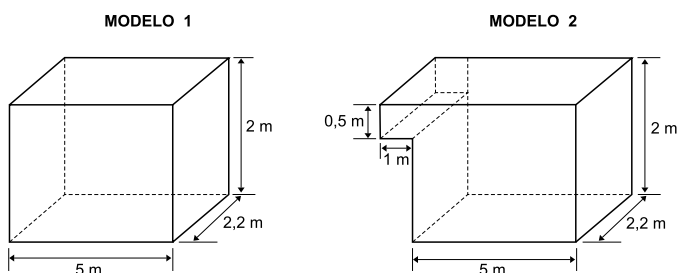
17. Um jardineiro irá pulverizar um adubo na grama de um quintal com o seguinte formato:



Para tanto, ele irá utilizar um adubo concentrado, sendo que devem ser utilizados 10 mL desse concentrado por metro quadrado de grama. Se o adubo concentrado é vendido em frascos de 138 mL, então, para adubar toda a área gramada, conforme as orientações do produto, o número mínimo de frascos que esse jardineiro precisará comprar será:

- (A) 1.
- (B) 2.
- (C) 3.
- (D) 4.
- (E) 5.

18. Uma empresa fabrica baús para pequenos caminhões, no formato de um paralelepípedo reto ou dois acoplados. Observe as dimensões internas dos dois modelos mais vendidos.



A diferença entre os volumes internos do modelo 2 e do modelo 1, nessa ordem, é igual a

- (A)  $4,4 \text{ m}^3$ .
- (B)  $3,3 \text{ m}^3$ .
- (C)  $2,2 \text{ m}^3$ .
- (D)  $1,5 \text{ m}^3$ .
- (E)  $1,1 \text{ m}^3$ .

19. Júlia, Pedro e Lorena foram até uma farmácia com seus pais e aproveitaram para se “pesar”. Eles subiram na balança sempre em duplas, de modo que Júlia e Pedro “pesam”, juntos, 62 kg, já Júlia e Lorena “pesam”, juntas, 68 kg, enquanto Pedro e Lorena “pesam”, juntos, 66 kg. Portanto, quem tem o maior “peso” é Lorena, com

- (A) 41 kg.
- (B) 40 kg.
- (C) 38 kg.
- (D) 36 kg.
- (E) 35 kg.

20. Roberto pagou, com atraso, uma tarifa emitida pela prefeitura de sua cidade. Nesses casos, além do valor da tarifa, a prefeitura cobra uma multa com uma taxa de 0,2% por dia de atraso, a juros simples. Dado que o valor da tarifa era R\$135,00 e que a multa gerada pelo atraso no pagamento foi de R\$ 4,05, o número de dias que Roberto atrasou o pagamento da tarifa foi igual a

- (A) 5.
- (B) 10.
- (C) 15.
- (D) 20.
- (E) 25.

**R A S C U N H O**

## LEGISLAÇÃO

- 21.** Determinado servidor público do Município de Marília, detentor de cargo efetivo, foi convidado a participar como membro de um órgão de deliberação coletiva dentro da estrutura administrativa do próprio Município. Nessa hipótese, segundo o que dispõe a Lei Complementar nº 680/2013, o referido servidor
- (A) poderá aceitar o convite, mas não poderá receber remuneração pela participação.
  - (B) não poderá aceitar o convite, já que a lei proíbe essa situação.
  - (C) poderá aceitar o convite e poderá receber remuneração pela sua participação.
  - (D) poderá aceitar o convite, mas terá que pedir licença não remunerada do seu cargo.
  - (E) não poderá aceitar o convite, já que essa acumulação seria conduta antiética.
- 22.** Fulano é servidor público do Município de Marília e, em razão do seu cargo, teve conhecimento de ato de improbidade administrativa cometido pelo seu chefe imediato. Diante desse fato, a Lei Complementar nº 680/2013 estabelece que Fulano
- (A) nada poderá fazer, visto que o ato improbo foi cometido pelo seu chefe imediato, que seria o competente para tomar ciência do fato.
  - (B) deve solicitar ao seu chefe que leve o fato ao conhecimento das autoridades competentes e, se este assim não proceder, deve denunciá-lo à autoridade policial.
  - (C) deve ficar em silêncio, já que teve conhecimento do fato em razão do seu cargo e poderá sofrer punição administrativa se contar a qualquer pessoa.
  - (D) deve denunciá-lo perante o juiz criminal da Comarca, uma vez que o ato cometido pelo seu chefe é um crime.
  - (E) deve dar ciência à autoridade competente sobre o fato de seu conhecimento e não poderá ser responsabilizado por ter dado ciência do ocorrido.
- 23.** Se um servidor público municipal cometeu uma conduta considerada grave pelo Código de Ética (LC nº 680/2013) ou se ele for reincidente, poderá a Comissão de Ética encaminhar a sua decisão e respectivo expediente para
- (A) o Prefeito Municipal, a fim de que este determine a pena a ser aplicada ao servidor público objeto da apuração da Comissão de Ética.
  - (B) a Corregedoria Geral do Município e, cumulativamente, se for o caso, à entidade em que, por exercício profissional, o servidor esteja inscrito, para as providências disciplinares cabíveis.
  - (C) o Delegado de Polícia para que este abra o competente inquérito policial contra o servidor público.
  - (D) o Promotor de Justiça do Município, para que este avalie as medidas judiciais cabíveis contra o servidor.
  - (E) a Procuradoria Geral do Município, que abrirá inquérito civil administrativo e ouvirá o servidor e, depois, tomará as medidas cabíveis dentro da Administração Pública Municipal.
- 24.** Segundo a Lei Complementar n.º 680/2013, no regime disciplinar, que impõe penas disciplinares aos servidores, ter o acusado confessado espontaneamente o fato caracterizado como infração disciplinar, em depoimento ou declarações,
- (A) em nada altera a sua pena.
  - (B) diminuirá sua pena pela metade.
  - (C) é uma circunstância que atenua a pena.
  - (D) excluirá a sua pena.
  - (E) transforma sua pena em multa.
- 25.** O instrumento destinado a apurar a responsabilidade do servidor por ação ou omissão no exercício de suas atribuições, ou de atos que tenham relação com as atribuições inerentes ao seu cargo ou função e que caracterizem infração disciplinar, tendo como resultado a aplicação da penalidade correspondente ou o arquivamento sem penalidade, assegurado o exercício do contraditório e da ampla defesa, denomina-se
- (A) Inquérito Civil Administrativo.
  - (B) Sindicância Administrativa.
  - (C) Auto de Infração Disciplinar.
  - (D) Processo Administrativo Disciplinar.
  - (E) Ação Investigativa Interna.



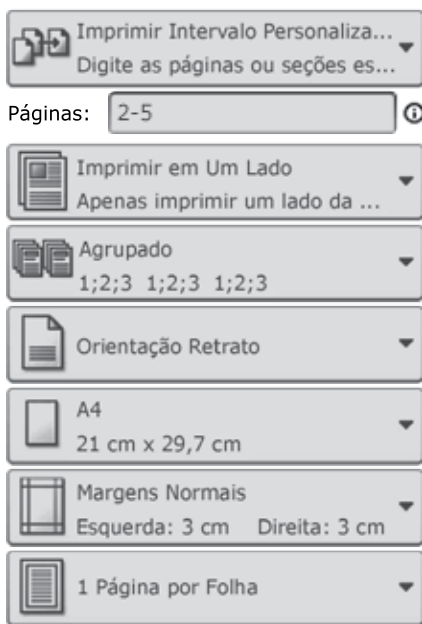
26. Por meio do Windows Explorer do MS-Windows 7, em sua configuração padrão, um usuário que queira renomear um arquivo pode selecionar tal arquivo e, em seguida, usar o atalho por teclado \_\_\_\_ para então digitar o novo nome do arquivo.

Assinale a alternativa que preenche corretamente a lacuna do enunciado.

- (A) F1
- (B) F2
- (C) F4
- (D) F5
- (E) F8

27. Observe a imagem a seguir, que mostra opções de impressão no MS-Word 2010, em sua configuração padrão, de um documento com 13 páginas.

**Configurações**



[Configurar Página](#)

◀ 1 de 13 ▶

Ao confirmar a impressão, o número de páginas impressas será

- (A) 1.
- (B) 2.
- (C) 4.
- (D) 5.
- (E) 13.

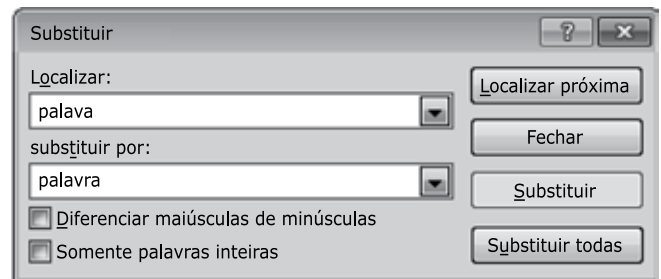
28. A imagem a seguir mostra uma planilha sendo editada por meio do MS-Excel 2010, em sua configuração padrão.

	A	B	C
1	2	5	
2	1	8	
3	4	2	
4	6	7	

Assinale a alternativa que contém o valor que será exibido na célula C1, após esta ser preenchida com a fórmula =MAIOR(A1:B4;4)

- (A) 8
- (B) 7
- (C) 6
- (D) 5
- (E) 4

29. Observe a imagem a seguir, que mostra a janela Substituir, exibida após clicar sobre o ícone Substituir do MS-PowerPoint 2010, em sua configuração padrão.



O ícone Substituir, mencionado no enunciado, localiza-se no grupo Edição, da guia

- (A) Página Inicial.
- (B) Revisão.
- (C) Exibição.
- (D) Design.
- (E) Texto.

30. No MS-Outlook 2010, em sua configuração padrão, os campos usados para "endereços de e-mail de destinatários não visíveis para os demais destinatários" e "endereços de e-mail de destinatários visíveis para os demais destinatários" são, respectivamente:

- (A) Assunto e Para.
- (B) Para e Cco.
- (C) Cc e Cco.
- (D) Cc e Assunto.
- (E) Cco e Cc.

## CONHECIMENTOS ESPECÍFICOS

31. No Brasil, a Constituição Federal estabelece que a execução de ações de vigilância sanitária, epidemiológica e de saúde do trabalhador compete

- (A) ao Sistema Único de Saúde (SUS).
- (B) ao Ministério do Trabalho e Emprego (MTE).
- (C) às centrais sindicais.
- (D) às Delegacias Regionais do Trabalho (DRT).
- (E) ao empregador.

32. Considere a notícia a seguir.

*SUS amplia oferta de medicamento inovador para pacientes com HIV e Aids*

Arquivo/Agência Brasil  
30/09/2017

Produto é considerado um dos mais eficazes para o tratamento de Aids no mundo pela alta potência, pelo nível muito baixo de eventos adversos e pela comodidade para o paciente.

O Ministério da Saúde ampliou o acesso ao remédio Dolutergravir a toda a população que vive com HIV e Aids no País. Até o final de 2018, 300 mil pacientes poderão utilizar o antirretroviral.

O produto é considerado um dos mais eficazes para o tratamento de Aids no mundo pela alta potência, pelo nível muito baixo de eventos adversos, pela comodidade para o paciente (uma vez ao dia), além de proporcionar um tratamento eficaz por mais tempo e menor resistência.

A medida de prevenção reduz o risco da infecção pelo HIV antes da exposição, por meio da utilização de medicamentos antirretrovirais em pessoas não infectadas e que mantêm relações de risco com maior frequência. Entre o público-alvo da medida estão homens que fazem sexo com homens, gays, travestis, transexuais, profissionais do sexo e casais sorodiferentes.

(<http://www.brasil.gov.br/saude/2017/09/medicamento-para-hiv-aids-e-distribuido-a-300-mil-pacientes>. Adaptado. Acesso em 30/09/2017)

A notícia divulga uma ação do Ministério da Saúde em consonância com o princípio doutrinário do SUS de

- (A) descentralização.
- (B) autonomia.
- (C) hierarquização.
- (D) controle social.
- (E) equidade.

33. De acordo com a Lei Orgânica do Município de Marília, os Conselhos Locais de Saúde são subordinados

- (A) aos Conselhos Gestores das unidades de saúde da família (USF).
- (B) ao Conselho Municipal de Saúde.
- (C) aos Conselhos Regionais de Saúde.
- (D) ao Secretário Municipal de Saúde.
- (E) ao Prefeito do Município de Marília.

34. São exemplos de medidas de promoção da saúde a

- (A) imunização e o isolamento para evitar propagação de doenças.
- (B) mamografia e o exame preventivo para câncer de colo uterino.
- (C) alimentação adequada e o controle do tabagismo.
- (D) fisioterapia e o estímulo à atividade física.
- (E) terapia ocupacional e a vacinação.

35. Considere os dados apresentados na tabela a seguir.

TABELA 1 – INCIDÊNCIA MENSAL POR 100.000 HABITANTES DA DOENÇA X, MUNICÍPIO Y, 2013 A 2016.

	jan	fev	mar	abr	mai	jun	jul	ago	set	out	nov	dez
2013	0,17	0,19	0,18	0,21	0,55	0,82	0,80	0,68	0,40	0,22	0,22	0,20
2014	0,19	0,18	0,20	0,21	0,49	0,79	0,82	0,79	0,49	0,26	0,19	0,19
2015	0,17	0,18	0,19	0,23	0,47	0,68	0,88	0,66	0,50	0,27	0,20	0,18
2016	0,16	0,19	0,18	0,20	0,50	0,81	0,86	0,63	0,48	0,32	0,19	0,18

Após análise da tabela, é correto afirmar que

- (A) no ano de 2016 ocorreu uma epidemia da doença X no município.
- (B) a elevação no número de casos nos meses de junho e julho de 2013 e 2016 configura a ocorrência de um surto da doença X.
- (C) no município Y, a doença X vem ocorrendo de forma epidêmica desde 2013.
- (D) no período, o aumento nas taxas de maio a agosto representa a variação sazonal da doença X.
- (E) a doença X caracteriza-se como uma pandemia.

- 36.** Ao observar os coeficientes de mortalidade infantil de quatro municípios nos últimos cinco anos, o supervisor de saúde constatou que um deles se diferenciava por apresentar taxas bem mais altas do que os demais. Para esse município, os valores refletem
- (A) as condições de saúde e de vida precárias.
  - (B) a consolidação da estratégia de saúde da família (ESF).
  - (C) o incremento no acesso aos serviços de saúde.
  - (D) a maior oferta de emprego e, conseqüentemente, o aumento na renda familiar.
  - (E) o impacto do Programa Bolsa Família.
- 37.** No processo de cadastramento familiar, o preenchimento da Ficha A do SIAB permite, entre outros itens, a coleta de dados, tais como:
- (A) localização do domicílio, integrantes da família, condições de moradia e saneamento, e o acesso a alguns serviços.
  - (B) condições de moradia, composição familiar, número de consultas realizadas no último ano e perfil de imunização dos membros da família.
  - (C) diabetes, hipertensão, tabagismo, número de consultas e especialidade médica que necessitou consultar.
  - (D) composição familiar, condições de moradia e saneamento, perfil de imunização dos moradores e número de consultas com especialistas no último ano.
  - (E) hipertensão, diabetes, nascimentos, consultas e exames realizados no último ano.

- 38.** Considere as informações que compõem o diagnóstico de saúde de uma comunidade e relacione as colunas do quadro a seguir, de modo a tornar verdadeira a associação entre o componente e o tipo de informações/dados com que contribuem para a construção do diagnóstico de saúde.

COMPONENTE		INFORMAÇÕES/DADOS	
a	Diagnóstico demográfico	I	Identifica hábitos, crenças, valores e conceitos que formam a cultura de uma comunidade por meio de informações sobre a estrutura familiar, a religião, o conhecimento popular sobre a saúde e a organização da comunidade.
b	Diagnóstico socioeconômico	II	Analisa e apresenta o perfil do meio ambiente e sua importância em relação ao processo saúde-doença.
c	Diagnóstico socioambiental	III	Retrata as informações levantadas sobre condições de moradia, ocupação, escolaridade, meios de comunicação, recursos sociais e transporte.
d	Diagnóstico sociocultural	IV	Consiste no estudo das características de uma comunidade em relação ao número de pessoas que nascem, vivem, migram e morrem, sua distribuição por sexo, faixa etária e localização (zona rural e urbana).

Assinale alternativa correta.

- (A) a-I; b-II; c-III; d-IV.
- (B) a-III; b-IV; c-II; d-I.
- (C) a-IV; b-III; c-II; d-I.
- (D) a-I; b-III; c-IV; d-II.
- (E) a-IV; b-I; c-II; d-III.

39. Devido às fortes chuvas, ocorreu a inundação de várias casas em duas microáreas do município. Frente a essa situação, o supervisor de saúde deve alertar os agentes de saúde sobre a possibilidade de ocorrerem casos de
- (A) raiva, que apresenta período de incubação de até um ano.
  - (B) leptospirose, cujo período de incubação varia de 1 a 30 dias.
  - (C) botulismo, cujo período de incubação varia de duas horas a 10 dias.
  - (D) tracoma, cujo período de incubação varia de 5 a 12 dias.
  - (E) esquistossomose, que apresenta período de incubação de até 15 dias.

40. Com o objetivo de realizar o diagnóstico precoce, iniciar o tratamento e, assim, quebrar a cadeia de transmissão da tuberculose, deve ser realizada a busca ativa de sintomáticos respiratórios, ou seja, pessoas com tosse por tempo igual ou superior a

- (A) 5 dias.
- (B) 7 dias.
- (C) 10 dias.
- (D) 2 semanas.
- (E) 3 semanas.

41. De acordo com a Portaria nº 204/2016 do Ministério da Saúde, que define a Lista Nacional de Notificação Compulsória de doenças, agravos e eventos de saúde pública nos serviços de saúde públicos e privados em todo o território nacional e dá outras providências, são doenças de notificação compulsória imediata os casos de

- (A) dengue e esquistossomose.
- (B) hanseníase e sífilis adquirida.
- (C) tuberculose e violência doméstica.
- (D) acidente por animal peçonhento e febre amarela.
- (E) varicela e óbito infantil.

42. Constatou-se um aumento no número de casos autóctones de febre de chikungunya em uma microárea. Frente a essa situação, o supervisor de saúde, juntamente com a equipe de saúde, devem reforçar, junto aos agentes de saúde, que constitui medida efetiva de prevenção pessoal

- (A) o uso, por parte de doentes e demais membros da família, de roupas com mangas compridas para cobrir as extremidades.
- (B) a ingestão de vitamina do complexo B na forma de comprimidos.
- (C) a manutenção de janelas e portas abertas para proporcionar uma boa ventilação do ambiente.
- (D) a internação e isolamento do doente nas primeiras 48 horas a partir do início dos sinais e sintomas da doença.
- (E) a manutenção da vegetação e do gramado bem aparados para evitar que o vetor se reproduza em suas estruturas.

43. Considere a notícia a seguir.

*Recife discute prevenção em acidentes de trânsito*

Diário de Pernambuco 19/05/2017

A Secretaria de Saúde do Recife, por meio da Diretoria Executiva de Vigilância à Saúde (Devs) da capital, em parceria com o Comitê de Prevenção de Acidentes de Trânsito (Compat), promove, nesta sexta-feira, o primeiro Seminário de Prevenção de Acidentes de Trânsito do Recife. O evento faz parte das ações do movimento mundial Maio Amarelo. Nos moldes das campanhas contra o vírus HIV e o câncer de mama, o laço, desta vez amarelo, é utilizado como símbolo do movimento.

O secretário de Saúde do Recife, Jailson Correia, participa da abertura do seminário. A ideia é capacitar agentes dos vários órgãos que participam do programa Trânsito é Vida, da Prefeitura. Além do evento, haverá também uma blitz com as participações da Companhia de Trânsito e Transportes Urbanos (CTTU), agentes da Prefeitura do Recife e faculdades particulares.

([http://www.diariodepernambuco.com.br/app/noticia/vida-urbana/2017/05/19/interna\\_vidaurbana,704647/recife-discute-prevencao-em-acidentes-de-transito.shtml](http://www.diariodepernambuco.com.br/app/noticia/vida-urbana/2017/05/19/interna_vidaurbana,704647/recife-discute-prevencao-em-acidentes-de-transito.shtml))  
Adaptado. Acesso em 01/10/2017)

O relato exemplifica uma ação pautada no princípio de

- (A) intrasetorialidade.
- (B) interdisciplinaridade.
- (C) descentralização.
- (D) intersetorialidade.
- (E) regionalização.

44. A entrevista motivacional é uma das diferentes abordagens metodológicas utilizadas na educação em saúde para o autocuidado. Esse método tem como propósito
- (A) utilizar a elaboração do genograma como forma de poder ver a pessoa que está com um problema a partir de outra "lente": a familiar.
  - (B) estimular o indivíduo, ativando sua motivação para a mudança e adesão ao tratamento em questão.
  - (C) estimular a equipe de saúde a ensinar as pessoas sobre as responsabilidades pessoais no cuidado com a sua saúde.
  - (D) reunir um pequeno número de usuários e realizar a abordagem clínica, incluindo a aferição de pressão arterial e da glicemia capilar, entre outras atividades.
  - (E) criar a oportunidade para a equipe de saúde mostrar a realidade sobre a doença e o tratamento em questão.
45. Ao planejar as ações de educação em saúde para a prevenção de infecções sexualmente transmissíveis (IST), a equipe optou pelo trabalho com grupos de sala de espera. Esse modelo de grupo
- (A) tem como característica básica a delimitação dos participantes e do tempo de duração da existência do grupo, ou seja, começa e termina com os mesmos participantes e segue um cronograma previamente determinado.
  - (B) apresenta como vantagem a formação do vínculo de confiança do usuário com a equipe de saúde, decorrente do convívio e da intensificação da troca de experiências semelhantes.
  - (C) tem como característica básica a variabilidade do tempo e dos participantes, ou seja, o tempo varia para cada participante, e o número destes varia de acordo com o espaço físico do local.
  - (D) apresenta como desvantagem a rotatividade dos participantes, que pode prejudicar a motivação e o aprofundamento de temas no grupo, pois as informações são repetidas em função dos novos participantes.
  - (E) é dirigido aos usuários que estão aguardando a hora da consulta, tratando-se de um grupo formado espontaneamente, sem história temporal e com um único encontro.
46. O agente de saúde informou ao supervisor que, ao realizar visita domiciliária devido à falta do usuário na consulta de controle da tuberculose, constatou que um filho do casal, com 13 anos de idade, encontrava-se de castigo, preso à cama, pois costumava fugir de casa para se encontrar com amigos, à noite. Observou também que o jovem apresentava equimoses por ter sido surrado ao voltar para casa. Frente a essa situação, considerando o Estatuto da Criança e do Adolescente, o caso deve ser notificado
- (A) à Delegacia de Polícia.
  - (B) ao Ministério Público.
  - (C) ao Conselho Tutelar.
  - (D) ao Conselho Gestor da unidade de saúde.
  - (E) ao Conselho de Saúde.
47. J.R., 62 anos, sexo masculino, foi encaminhado à sala de observação de uma unidade de pronto atendimento (UPA) após ser medicado devido a crise hipertensiva. De acordo com o estabelecido pelo Estatuto do Idoso,
- (A) é desnecessária a permanência de acompanhante porque o usuário está apenas em observação.
  - (B) por se tratar de um período de observação, é assegurado o direito a acompanhante no período noturno, apenas.
  - (C) é assegurado o direito a acompanhante, em tempo integral.
  - (D) só é permitido acompanhante em tempo integral ao paciente internado, com, no mínimo, 65 anos de idade.
  - (E) é assegurado o direito a acompanhante, em tempo integral, desde que seja do mesmo sexo que o usuário.

**48.** De acordo com o Código Sanitário do Estado de São Paulo, no que diz respeito à notificação compulsória das doenças e agravos à saúde, é correto afirmar que

- (A) se trata de atribuição exclusiva dos médicos assumirem o tratamento dos doentes.
- (B) deve ser realizada somente para os casos com diagnóstico confirmado.
- (C) é atribuição exclusiva do veterinário e do responsável por laboratórios que executem exames microbiológicos e sorológicos quando se tratar de zoonoses de interesse para a saúde pública.
- (D) se trata de competência dos responsáveis por estabelecimentos de assistência à saúde e instituições médico-sociais, excluídos os serviços de verificação de óbito e institutos médico-legais.
- (E) é dever de todo cidadão comunicar à autoridade sanitária local a ocorrência, comprovada ou presumível, de doença e agravos à saúde de notificação compulsória.

**49.** Ao acompanhar o agente de saúde em uma visita domiciliar em área rural, o supervisor de saúde constatou que a família utilizava água proveniente de poço freático, e os dejetos eram depositados em fossa seca. Observou que a distância entre o poço e a fossa era de cerca de 20 metros, porém o local utilizado para a criação de porcos ficava em área próxima. A família deve ser orientada que, para que o chiqueiro não comprometer o lençol d'água que alimenta o poço, a distância mínima entre eles deve ser de

- (A) 3 metros.
- (B) 5 metros.
- (C) 15 metros.
- (D) 25 metros.
- (E) 45 metros.

**50.** Em reunião com agentes de saúde, o supervisor ressaltou a importância de aproveitar o momento da visita domiciliar para orientar medidas de controle de vetores, como o carrapato, pois é um agente transmissor de doenças, como a

- (A) leishmaniose tegumentar.
- (B) febre maculosa.
- (C) infecção por herpes-zóster.
- (D) leishmaniose visceral.
- (E) febre tifoide.



